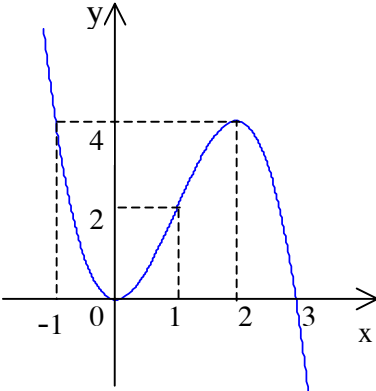


Câu	ý	Nội dung	ĐH	CĐ																
I	1	$m = 1 \Rightarrow y = -x^3 + 3x^2$ Tập xác định $\forall x \in R$. $y' = -3x^2 + 6x = -3x(x - 2)$, $y' = 0 \Leftrightarrow \begin{cases} x_1 = 0 \\ x_2 = 2 \end{cases}$ $y'' = -6x + 6 = 0$, $y'' = 0 \Leftrightarrow x = 1$ Bảng biến thiên	$\sum 1,0 \text{ đ}$	$\sum 1,5 \text{ đ}$																
		<table border="1" style="width: 100%; border-collapse: collapse; text-align: center;"> <tr> <td style="border-right: 1px solid black; padding: 5px;">x</td> <td style="padding: 5px;">$-\infty$</td> <td style="padding: 5px;">0</td> <td style="padding: 5px;">1</td> <td style="padding: 5px;">2</td> <td style="padding: 5px;">$+\infty$</td> </tr> <tr> <td style="border-right: 1px solid black; padding: 5px;">y'</td> <td style="padding: 5px;">-</td> <td style="padding: 5px;">0</td> <td style="padding: 5px;">+</td> <td style="padding: 5px;">0</td> <td style="padding: 5px;">-</td> </tr> <tr> <td style="border-right: 1px solid black; padding: 5px;">y''</td> <td colspan="2" style="padding: 5px;">+</td> <td style="padding: 5px;">0</td> <td colspan="2" style="padding: 5px;">-</td> </tr> </table> <div style="display: flex; justify-content: space-around; align-items: center;"> <div style="text-align: center;"> y $+\infty$ </div> <div style="text-align: center;"> \swarrow CT 0 </div> <div style="text-align: center;"> \nearrow 2 </div> <div style="text-align: center;"> \searrow CĐ 4 lồi </div> <div style="text-align: center;"> \swarrow $-\infty$ </div> </div> $y = 0 \Leftrightarrow \begin{cases} x = 0 \\ x = 3 \end{cases}$, $y(-1) = 4$ Đồ thị:	x	$-\infty$	0	1	2	$+\infty$	y'	-	0	+	0	-	y''	+		0	-	
x	$-\infty$	0	1	2	$+\infty$															
y'	-	0	+	0	-															
y''	+		0	-																
			0,25 đ	0,5 đ																
		<i>(Thí sinh có thể lập 2 bảng biến thiên)</i>																		

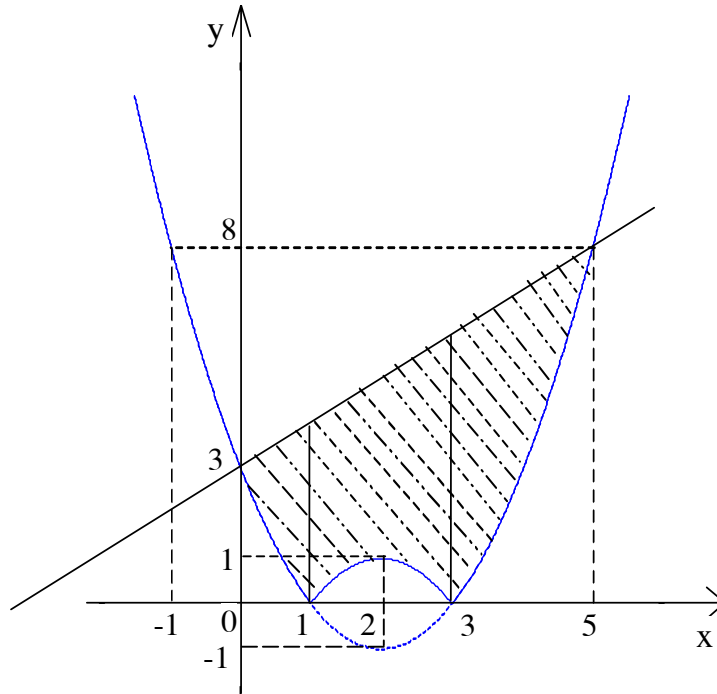
I	2	<p>Cách I. Ta có $-x^3 + 3x^2 + k^3 - 3k^2 = 0 \Leftrightarrow -x^3 + 3x = -k^3 + 3k^2$. Đặt $a = -k^3 + 3k^2$ Dựa vào đồ thị ta thấy phương trình $-x^3 + 3x^2 = a$ có 3 nghiệm phân biệt $\Leftrightarrow 0 < a < 4 \Leftrightarrow 0 < -k^3 + 3k^2 < 4$ $\Leftrightarrow \begin{cases} 0 \neq k < 3 \\ (k+1)(k^2 - 4k + 4) > 0 \end{cases} \Leftrightarrow \begin{cases} 0 \neq k < 3 \\ (k+1)(k-2)^2 > 0 \end{cases} \Leftrightarrow \begin{cases} -1 < k < 3 \\ k \neq 0 \wedge k \neq 2 \end{cases}$</p> <p>Cách II. Ta có $-x^3 + 3x^2 + k^3 - 3k^2 = 0 \Leftrightarrow (x-k)[x^2 + (k-3)x + k^2 - 3k] = 0$ có 3 nghiệm phân biệt $\Leftrightarrow f(x) = x^2 + (k-3)x + k^2 - 3k = 0$ có 2 nghiệm phân biệt khác k $\Leftrightarrow \begin{cases} \Delta = -3k^2 + 6k + 9 > 0 \\ k^2 + k^2 - 3k + k^2 - 3k \neq 0 \end{cases} \Leftrightarrow \begin{cases} -1 < k < 3 \\ k \neq 0 \wedge k \neq 2 \end{cases}$</p>	$\sum 0,5 \text{ đ}$ 0,25 đ 0,25 đ ----- 0,25đ 0,25 đ	$\sum 0,5 \text{ đ}$ 0,25 đ 0,25 đ ----- 0,25 đ 0,25 đ
	3	<p>Cách I. $y' = -3x^2 + 6mx + 3(1-m^2) = -3(x-m)^2 + 3, \quad y' = 0 \Leftrightarrow \begin{cases} x_1 = m-1 \\ x_2 = m+1 \end{cases}$ Ta thấy $x_1 \neq x_2$ và y' đổi dấu khi qua x_1 và $x_2 \Rightarrow$ hàm số đạt cực trị tại x_1 và x_2. $y_1 = y(x_1) = -m^2 + 3m - 2$ và $y_2 = y(x_2) = -m^2 + 3m + 2$ Phương trình đường thẳng đi qua 2 điểm cực trị $M_1(m-1; -m^2 + 3m - 2)$ và $M_2(m+1; -m^2 + 3m + 2)$ là: $\frac{x-m+1}{2} = \frac{y+m^2-3m+2}{4} \Leftrightarrow y = 2x - m^2 + m$</p> <p>Cách II. $y' = -3x^2 + 6mx + 3(1-m^2) = -3(x-m)^2 + 3, \quad$ Ta thấy $\Delta' = 9m^2 + 9(1-m^2) = 9 > 0 \Rightarrow y' = 0$ có 2 nghiệm $x_1 \neq x_2$ và y' đổi dấu khi qua x_1 và $x_2 \Rightarrow$ hàm số đạt cực trị tại x_1 và x_2. Ta có $y = -x^3 + 3mx^2 + 3(1-m^2)x + m^3 - m^2$ $= \left(\frac{1}{3}x - \frac{m}{3}\right)(-3x^2 + 6mx + 3 - 3m^2) + 2x - m^2 + m.$ Từ đây ta có $y_1 = 2x_1 - m^2 + m$ và $y_2 = 2x_2 - m^2 + m$. Vậy phương trình đường thẳng đi qua 2 điểm cực trị là $y = 2x - m^2 + m$.</p>	$\sum 1,0 \text{ đ}$ 0,25 đ 0,25 đ ----- 0,25 đ 0,25 đ ----- 0,25 đ 0,25 đ	$\sum 1,0 \text{ đ}$ 0,25 đ 0,25 đ ----- 0,25 đ 0,25 đ ----- 0,25 đ 0,25 đ
II	1.	<p>Với $m = 2$ ta có $\log_3^2 x + \sqrt{\log_3^2 x + 1} - 5 = 0$ Điều kiện $x > 0$. Đặt $t = \sqrt{\log_3^2 x + 1} \geq 1$ ta có $t^2 - 1 + t - 5 = 0 \Leftrightarrow t^2 + t - 6 = 0 \Leftrightarrow \begin{cases} t_1 = -3 \\ t_2 = 2 \end{cases}$.</p>	$\sum 0,5 \text{ đ}$ 0,25 đ	$\sum 1,0 \text{ đ}$ 0,5 đ

	$t_1 = -3$ (loại), $t_2 = 2 \Leftrightarrow \log_3^2 x = 3 \Leftrightarrow \log_3 x = \pm\sqrt{3} \Leftrightarrow x = 3^{\pm\sqrt{3}}$ $x = 3^{\pm\sqrt{3}}$ thỏa mãn điều kiện $x > 0$. <i>(Thí sinh có thể giải trực tiếp hoặc đặt ẩn phụ kiểu khác)</i>	0,25 đ	0,5 đ
2.	$\log_3^2 x + \sqrt{\log_3^2 x + 1} - 2m - 1 = 0$ (2) Điều kiện $x > 0$. Đặt $t = \sqrt{\log_3^2 x + 1} \geq 1$ ta có $t^2 - 1 + t - 2m - 1 = 0 \Leftrightarrow t^2 + t - 2m - 2 = 0$ (3) $x \in [1, 3^{\sqrt{3}}] \Leftrightarrow 0 \leq \log_3 x \leq \sqrt{3} \Leftrightarrow 1 \leq t = \sqrt{\log_3^2 x + 1} \leq 2$. Vậy (2) có nghiệm $\in [1, 3^{\sqrt{3}}]$ khi và chỉ khi (3) có nghiệm $\in [1, 2]$. Đặt $f(t) = t^2 + t$ Cách 1. Hàm số $f(t)$ là hàm tăng trên đoạn $[1; 2]$. Ta có $f(1) = 2$ và $f(2) = 6$. Phương trình $t^2 + t = 2m + 2 \Leftrightarrow f(t) = 2m + 2$ có nghiệm $\in [1; 2]$ $\Leftrightarrow \begin{cases} f(1) \leq 2m + 2 \\ f(2) \geq 2m + 2 \end{cases} \Leftrightarrow \begin{cases} 2 \leq 2m + 2 \\ 2m + 2 \leq 6 \end{cases} \Leftrightarrow 0 \leq m \leq 2$. Cách 2. TH1. Phương trình (3) có 2 nghiệm t_1, t_2 thỏa mãn $1 < t_1 \leq t_2 < 2$. Do $\frac{t_1 + t_2}{2} = -\frac{1}{2} < 1$ nên không tồn tại m . TH2. Phương trình (3) có 2 nghiệm t_1, t_2 thỏa mãn $t_1 \leq 1 \leq t_2 \leq 2$ hoặc $1 \leq t_1 \leq 2 \leq t_2$ $\Leftrightarrow -2m(4 - 2m) \leq 0 \Leftrightarrow 0 \leq m \leq 2$. <i>(Thí sinh có thể dùng đồ thị, đạo hàm hoặc đặt ẩn phụ kiểu khác)</i>	$\sum 1,0$ đ 0,25 đ 0,25 đ ----- 0,25 đ 0,25 đ 0,25 đ 0,25 đ	$\sum 1,0$ đ 0,25 đ 0,25 đ ----- 0,25 đ 0,25 đ 0,25 đ 0,25 đ
III	1. $5 \left(\sin x + \frac{\cos 3x + \sin 3x}{1 + 2 \sin 2x} \right) = \cos 2x + 3$. Điều kiện $\sin 2x \neq -\frac{1}{2}$ Ta có $5 \left(\sin x + \frac{\cos 3x + \sin 3x}{1 + 2 \sin 2x} \right) = 5 \left(\frac{\sin x + 2 \sin x \sin 2x + \cos 3x + \sin 3x}{1 + 2 \sin 2x} \right)$ $= 5 \left(\frac{\sin x + \cos x - \cos 3x + \cos 3x + \sin 3x}{1 + 2 \sin 2x} \right) = 5 \left(\frac{(2 \sin 2x + 1) \cos x}{1 + 2 \sin 2x} \right) = 5 \cos x$ Vậy ta có: $5 \cos x = \cos 2x + 3 \Leftrightarrow 2 \cos^2 x - 5 \cos x + 2 = 0$ $\cos x = 2$ (loại) hoặc $\cos x = \frac{1}{2} \Rightarrow x = \pm \frac{\pi}{3} + 2k\pi$ ($k \in \mathbb{Z}$).	$\sum 1,0$ đ 0,25 đ 0,25 đ 0,25 đ 0,25 đ	$\sum 1,0$ đ 0,25 đ 0,25 đ 0,25 đ 0,25 đ

Vì $x \in (0; 2\pi)$ nên lấy $x_1 = \frac{\pi}{3}$ và $x_2 = \frac{5\pi}{3}$. Ta thấy x_1, x_2 thỏa mãn điều kiện $\sin 2x \neq -\frac{1}{2}$. Vậy các nghiệm cần tìm là: $x_1 = \frac{\pi}{3}$ và $x_2 = \frac{5\pi}{3}$.

2.

(Thí sinh có thể sử dụng các phép biến đổi khác)



Ta thấy phương trình $|x^2 - 4x + 3| = x + 3$ có 2 nghiệm $x_1 = 0$ và $x_2 = 5$.

Mặt khác $|x^2 - 4x + 3| \leq x + 3 \quad \forall x \in [0; 5]$. Vậy

$$S = \int_0^5 (x + 3 - |x^2 - 4x + 3|) dx = \int_0^1 (x + 3 - x^2 + 4x - 3) dx + \int_1^3 (x + 3 + x^2 - 4x + 3) dx + \int_3^5 (x + 3 - x^2 + 4x - 3) dx$$

$$S = \int_0^1 (-x^2 + 5x) dx + \int_1^3 (x^2 - 3x + 6) dx + \int_3^5 (-x^2 + 5x) dx$$

$$S = \left(-\frac{1}{3}x^3 + \frac{5}{2}x^2 \right) \Big|_0^1 + \left(\frac{1}{3}x^3 - \frac{3}{2}x^2 + 6x \right) \Big|_1^3 + \left(-\frac{1}{3}x^3 + \frac{5}{2}x^2 \right) \Big|_3^5$$

$$S = \frac{13}{6} + \frac{26}{3} + \frac{22}{3} = \frac{109}{6} \quad (\text{đ.v.d.t})$$

(Nếu thí sinh vẽ hình thì không nhất thiết phải nêu bất đẳng thức

$$|x^2 - 4x + 3| \leq x + 3 \quad \forall x \in [0; 5])$$

0,25 đ

0,25 đ

$\Sigma 1,0$ đ

$\Sigma 1,0$ đ

0,25 đ

0,25 đ

0,25 đ

0,25 đ

0,25 đ

0,25 đ

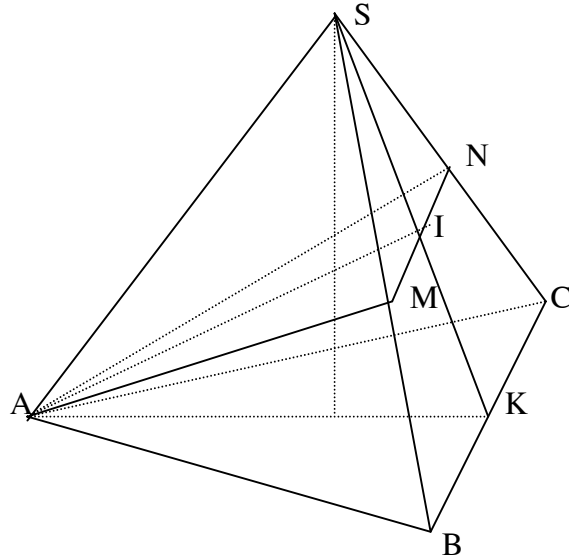
0,25 đ

0,25 đ

IV 1.

$\Sigma 1$ đ

$\Sigma 1$ đ



Gọi K là trung điểm của BC và $I = SK \cap MN$. Từ giả thiết
 $\Rightarrow MN = \frac{1}{2}BC = \frac{a}{2}$, $MN \parallel BC \Rightarrow I$ là trung điểm của SK và MN .

Ta có $\Delta SAB = \Delta SAC \Rightarrow$ hai trung tuyến tương ứng $AM = AN$
 $\Rightarrow \Delta AMN$ cân tại $A \Rightarrow AI \perp MN$.

Mặt khác $\begin{cases} (SBC) \perp (AMN) \\ (SBC) \cap (AMN) = MN \\ AI \subset (AMN) \\ AI \perp MN \end{cases} \Rightarrow AI \perp (SBC) \Rightarrow AI \perp SK$.

Suy ra ΔSAK cân tại $A \Rightarrow SA = AK = \frac{a\sqrt{3}}{2}$.

$$SK^2 = SB^2 - BK^2 = \frac{3a^2}{4} - \frac{a^2}{4} = \frac{a^2}{2}$$

$$\Rightarrow AI = \sqrt{SA^2 - SI^2} = \sqrt{SA^2 - \left(\frac{SK}{2}\right)^2} = \sqrt{\frac{3a^2}{4} - \frac{a^2}{8}} = \frac{a\sqrt{10}}{4}$$

Ta có $S_{\Delta AMN} = \frac{1}{2}MN \cdot AI = \frac{a^2\sqrt{10}}{16}$ (đvdt)

CHÚ Ý

1) Có thể chứng minh $AI \perp MN$ như sau:

$$BC \perp (SAK) \Rightarrow MN \perp (SAK) \Rightarrow MN \perp AI$$

2) Có thể làm theo phương pháp tọa độ:

Chẳng hạn chọn hệ tọa độ Đêcac vuông góc $Oxyz$ sao cho

$$K(0;0;0), B\left(\frac{a}{2};0;0\right), C\left(-\frac{a}{2};0;0\right), A\left(0;-\frac{a\sqrt{3}}{2};0\right), S\left(0;-\frac{a\sqrt{3}}{6};h\right)$$

trong đó h là độ dài đường cao SH của hình chóp $S.ABC$.

0,25 đ

0,25 đ

0,25 đ

0,25 đ

0,25 đ

0,25 đ

0,25 đ

0,25 đ

<p>2a)</p>	<p>Cách I. Phương trình mặt phẳng (P) chứa đường thẳng Δ_1 có dạng: $\alpha(x - 2y + z - 4) + \beta(x + 2y - 2z + 4) = 0 \quad (\alpha^2 + \beta^2 \neq 0)$ $\Leftrightarrow (\alpha + \beta)x - (2\alpha - 2\beta)y + (\alpha - 2\beta)z - 4\alpha + 4\beta = 0$</p> <p>Vậy $\vec{n}_p = (\alpha + \beta; -2\alpha + 2\beta; \alpha - 2\beta)$. Ta có $\vec{u}_2 = (1; 1; 2) // \Delta_2$ và $M_2(1; 2; 1) \in \Delta_2$ $(P) // \Delta_2 \Leftrightarrow \begin{cases} \vec{n}_p \cdot \vec{u}_2 = 0 \\ M_2(1; 2; 1) \notin (P) \end{cases} \Leftrightarrow \begin{cases} \alpha - \beta = 0 \\ M_2 \notin (P) \end{cases}$ Vậy $(P): 2x - z = 0$</p> <p>Cách II Ta có thể chuyển phương trình Δ_1 sang dạng tham số như sau: Từ phương trình Δ_1 suy ra $2x - z = 0$. Đặt $x = 2t' \Rightarrow \Delta_1: \begin{cases} x = 2t' \\ y = 3t' - 2 \\ z = 4t' \end{cases}$ $\Rightarrow M_1(0; -2; 0) \in \Delta_1, \vec{u}_1 = (2; 3; 4) // \Delta_1$. (Ta có thể tìm tọa độ điểm $M_1 \in \Delta_1$ bằng cách cho $x = 0 \Rightarrow y = -2 \quad z = 0$ và tính $\vec{u}_1 = \left(\begin{array}{c c c} -2 & 1 & 1 \\ 2 & -2 & -2 \end{array} \middle \begin{array}{c c} 1 & 1 \\ -2 & 1 \end{array} \middle \begin{array}{c} 1 \\ 1 \\ 2 \end{array} \right) = (2; 3; 4)$).</p> <p>Ta có $\vec{u}_2 = (1; 1; 2) // \Delta_2$. Từ đó ta có véc tơ pháp của mặt phẳng (P) là: $\vec{n}_p = [\vec{u}_1, \vec{u}_2] = (2; 0; -1)$. Vậy phương trình mặt phẳng (P) đi qua $M_1(0; -2; 0)$ và $\perp \vec{n}_p = (2; 0; -1)$ là: $2x - z = 0$. Mặt khác $M_2(1; 2; 1) \notin (P) \Rightarrow$ phương trình mặt phẳng cần tìm là: $2x - z = 0$</p>	<p>$\sum 0,5 \text{ đ}$</p> <p>0,25 đ</p> <p>0,25 đ</p> <p>-----</p> <p>0,25 đ</p> <p>0,25 đ</p>	<p>$\sum 1,0 \text{ đ}$</p> <p>0,5 đ</p> <p>0,5 đ</p> <p>-----</p> <p>0,5 đ</p> <p>0,5 đ</p>
<p>2b)</p>	<p>b) Cách I. $H \in \Delta_2 \Rightarrow H(1+t, 2+t, 1+2t) \Rightarrow \vec{MH} = (t-1; t+1; 2t-3)$ $\Rightarrow MH = \sqrt{(t-1)^2 + (t+1)^2 + (2t-3)^2} = \sqrt{6t^2 - 12t + 11} = \sqrt{6(t-1)^2 + 5}$ đạt giá trị nhỏ nhất khi và chỉ khi $t = 1 \Rightarrow H(2; 3; 3)$</p> <p>Cách II. $H \in \Delta_2 \Rightarrow H(1+t; 2+t; 1+2t)$. MH nhỏ nhất $\Leftrightarrow MH \perp \Delta_2 \Leftrightarrow \vec{MH} \cdot \vec{u}_2 = 0 \Leftrightarrow t = 1 \Rightarrow H(2; 3; 4)$</p>	<p>$\sum 0,5 \text{ đ}$</p> <p>0,25 đ</p> <p>0,25 đ</p> <p>-----</p> <p>0,25 đ</p> <p>0,25 đ</p>	<p>$\sum 1,0 \text{ đ}$</p> <p>0,5 đ</p> <p>0,5 đ</p> <p>-----</p> <p>0,5 đ</p> <p>0,5 đ</p>
<p>V</p>	<p>1.</p> <p>Ta có $BC \cap Ox = B(1; 0)$. Đặt $x_A = a$ ta có $A(a; 0)$ và $x_C = a \Rightarrow y_C = \sqrt{3}a - \sqrt{3}$. Vậy $C(a; \sqrt{3}a - \sqrt{3})$.</p> <p>Từ công thức $\begin{cases} x_G = \frac{1}{3}(x_A + x_B + x_C) \\ y_G = \frac{1}{3}(y_A + y_B + y_C) \end{cases}$ ta có $G\left(\frac{2a+1}{3}; \frac{\sqrt{3}(a-1)}{3}\right)$.</p> <p>Cách I. Ta có: $AB = a-1 , AC = \sqrt{3} a-1 , BC = 2 a-1$. Do đó</p>	<p>$\sum 1 \text{ đ}$</p> <p>0,25 đ</p>	

$$S_{\Delta ABC} = \frac{1}{2} AB \cdot AC = \frac{\sqrt{3}}{2} (a-1)^2.$$

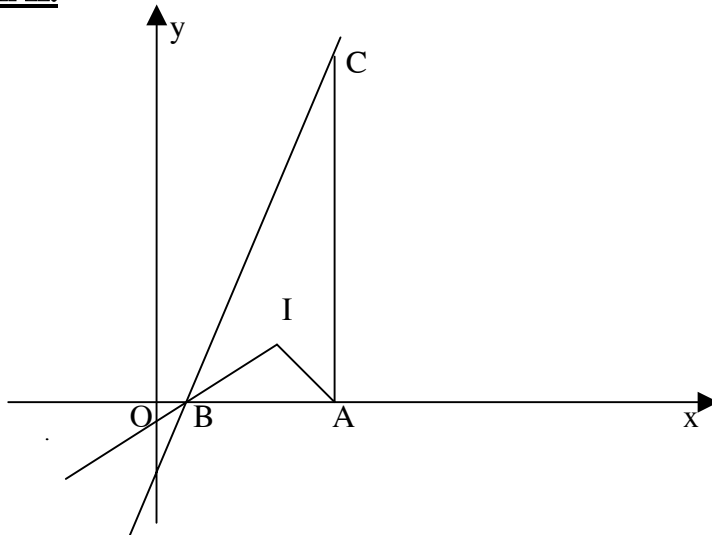
Ta có
$$r = \frac{2S}{AB + AC + BC} = \frac{\sqrt{3}(a-1)^2}{3|a-1| + \sqrt{3}|a-1|} = \frac{|a-1|}{\sqrt{3}+1} = 2.$$

Vậy $|a-1| = 2\sqrt{3} + 2.$

TH1. $a_1 = 2\sqrt{3} + 3 \Rightarrow G_1 \left(\frac{7+4\sqrt{3}}{3}; \frac{6+2\sqrt{3}}{3} \right)$

TH2 $a_2 = -2\sqrt{3} - 1 \Rightarrow G_2 \left(\frac{-4\sqrt{3}-1}{3}; \frac{-6-2\sqrt{3}}{3} \right).$

Cách II.



Gọi I là tâm đường tròn nội tiếp ΔABC . Vì $r = 2 \Rightarrow y_I = \pm 2$.

Phương trình BI : $y = \operatorname{tg}30^\circ \cdot (x-1) = \frac{x-1}{\sqrt{3}} \Rightarrow x_I = 1 \pm 2\sqrt{3}.$

TH1 Nếu A và O khác phía đối với $B \Rightarrow x_I = 1 + 2\sqrt{3}$. Từ $d(I, AC) = 2$

$\Rightarrow a = x_I + 2 = 3 + 2\sqrt{3} \Rightarrow G_1 \left(\frac{7+4\sqrt{3}}{3}; \frac{6+2\sqrt{3}}{3} \right)$

TH2. Nếu A và O cùng phía đối với $B \Rightarrow x_I = 1 - 2\sqrt{3}$. Tương tự

ta có $a = x_I - 2 = -1 - 2\sqrt{3} \Rightarrow G_2 \left(\frac{-4\sqrt{3}-1}{3}; \frac{-6-2\sqrt{3}}{3} \right)$

2.

Từ $C_n^3 = 5C_n^1$ ta có $n \geq 3$ và

0,25 đ

0,25 đ

0,25 đ

0,25 đ

0,25 đ

0,25 đ

$\Sigma 1$ đ

	$\frac{n!}{3!(n-3)!} = 5 \frac{n!}{(n-1)!} \Leftrightarrow \frac{n(n-1)(n-2)}{6} = 5n \Leftrightarrow n^2 - 3n - 28 = 0$ $\Rightarrow n_1 = -4 \text{ (loại) hoặc } n_2 = 7.$	0,25 đ 0,25 đ	
	<p>Với $n = 7$ ta có</p> $C_7^3 \left(2^{\frac{x-1}{2}}\right)^4 \left(2^{\frac{-x}{3}}\right)^3 = 140 \Leftrightarrow 35 \cdot 2^{2x-2} \cdot 2^{-x} = 140 \Leftrightarrow 2^{x-2} = 4 \Leftrightarrow x = 4.$	0,5 đ	